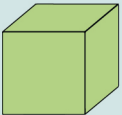
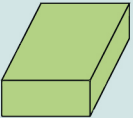
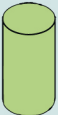






Deine Aufgabe ...

Vervollständige die folgende Tabelle:

Geometrische Grundkörper

| |  |  |  |  |  |  |  |
|---|---|---|---|---|---|---|---|
| Name | | | | | | | |
| Anzahl Flächen | | | | | | | |
| Anzahl Kanten | | | | | | | |
| Anzahl Ecken | | | | | | | |
| Welcher Körper aus dem Alltag hat diese Form? | | | | | | | |